


數字方塊

問題 1 (1 分)：

右圖是兩顆骰子。

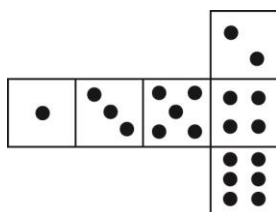


骰子是有規則的特別數字方塊：相對兩面之點數總和為 7。

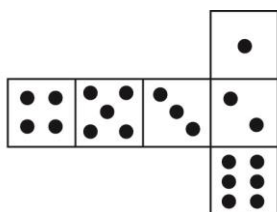
你可以透過切割、摺疊和黏貼硬紙板來做出一個簡單的數字方塊。有許多方式可以進行。以下是可做成方塊的四個展開圖，這些方塊每一面都有點數。

以下哪些展開圖可被摺成相對兩面之點數和為 7 的方塊？請在下表中，圈選出「是」或「否」。

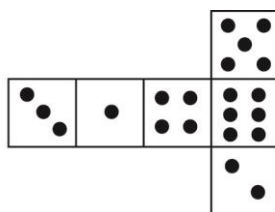
I



II



III



IV

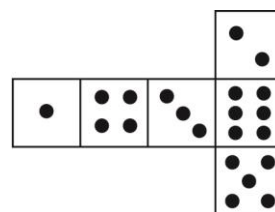


圖	是否符合相對兩面之點數和為 7 的規則？
I	是 / 否
II	是 / 否
III	是 / 否
IV	是 / 否