

美麗的國旗

某日，小昭在網路上，搜尋到科索沃共和國的國旗：



問題 1 (2 分)：







後來，小昭找到了一張有關科索沃共和國的地圖，請你利用右邊的比例尺與切割方式，計算科索沃共和國實際的面積大約為多少平方公里？




0 ——— 40km
0 ——— 1.5cm

問題 2 (3 分)：

小昭繼續找了 6 個國家的國旗，分別如下：

(1) 印尼 	(4) 法國 
(2) 波蘭 	(5) 泰國 
(3) 荷蘭 	(6) 芬蘭 

當他繼續找到挪威的國旗時，赫然發現，上述 6 個國家的國旗圖案，竟然都可以在挪威的國旗上找到，例如：下圖中，框起來的部分為印尼的國旗。



現在，請你在下圖中(挪威的國旗上)框出：

(2)波蘭、(3)荷蘭、(4)法國、(5)泰國、(6)芬蘭，這5個國家的國旗圖案，請注意各國國旗長與寬以及各種顏色的配色比例之合理性。

