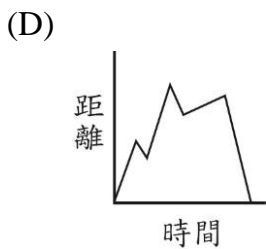
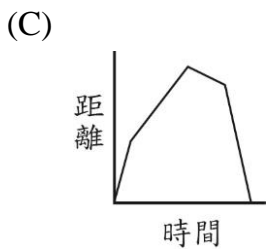
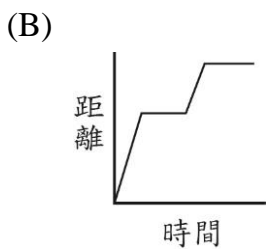
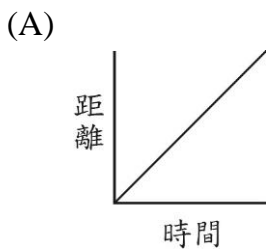
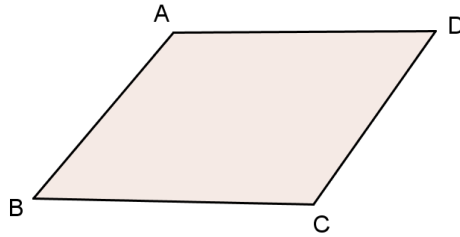


## 距離與時間

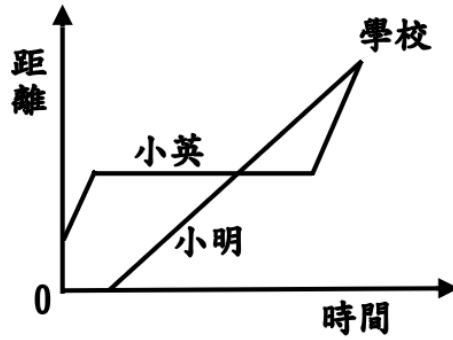
問題 1 (1 分)：

如圖所示，小英家住在  $A$  點，她從家裡出發，沿著平行四邊形街道  $ABCD$  依逆時鐘方向而跑。下列何圖可表示她所在位置與她家的直線距離？



問題 2 (2 分)：

下圖是紀錄小英和小明在某日上學時，兩人從家裡出發步行到學校，所行經的距離和時間的關係圖，請判斷下列的推論是否正確？



問題		答案
(1)	小英家離學校較近。	正確 / 不正確
(2)	小明上學所花的時間較小英長。	正確 / 不正確
(3)	兩人同時到達學校。	正確 / 不正確
(4)	小明在路上可能遇到正在休息的小英。	正確 / 不正確
(5)	比較兩人的步行速度，小明的速度較小英快。	正確 / 不正確