





MP3 播放器

音樂城 MP3 專賣店		
<p>MP3 播放器</p>  <p>155 西德蘭元</p>	<p>耳罩式耳機</p>  <p>86 西德蘭元</p>	<p>喇叭</p>  <p>79 西德蘭元</p>

問題 1 (1 分)：

維維用她的計算機把 MP3 播放器、耳罩式耳機和喇叭的價錢加起來。她得到的答案是 248。



維維得到的答案是不正確的。她犯了下面的一項錯誤，是哪一項呢？

- (A) 她加了其中的一個價錢兩次。
- (B) 她忘記加上三個價錢中的一個。
- (C) 她漏按了其中一個價錢的個位數字。
- (D) 她減去其中一個價錢而不是加上。

問題 2 (1 分)：

音樂城進行促銷活動，只要你買 2 件或 2 件以上的商品，就可以原售價的 8 折來買。

森森有 200 西德蘭元。在這個促銷活動中他能買什麼？

針對每一個選項，圈選「是」或「否」。

商品	森森是否用 200 西德蘭元能買到？
MP3 播放器和耳罩式耳機	是 / 否
MP3 播放器和喇叭	是 / 否
全部 3 個商品——MP3 播放器、耳罩式耳機和喇叭	是 / 否

問題 3 (1 分)：

MP3 的銷售價錢包含了 37.5% 的利潤，不含利潤的價錢稱為批發價。

利潤是以批發價的百分比計算出來的。

以下公式是否正確表示出批發價 w 和銷售價錢 s 之間的關係？

針對每一個公式，圈選「是」或「否」。

公式	公式是否正確？
$s = w + 0.375$	是 / 否
$w = s - 0.375s$	是 / 否
$s = 1.375w$	是 / 否
$w = 0.625s$	是 / 否