










購物匯率

亨利於 2012 年 7 月 2 至 12 日到加拿大旅行，出國前共兌換 15000 加幣(CAD)，他在加拿大跨國連鎖服飾店買了一件 100 加幣(CAD)的外套，返回台灣時僅剩 1000 加幣(CAD)。請依所附的匯率表回答下列問題：

2012/06/25 台灣銀行外幣匯率

幣別	現金匯率	
	買入	賣出
 美金 (USD)	29.61500	30.15700
 港幣 (HKD)	3.72300	3.90300
 英鎊 (GBP)	45.49000	47.47000
 加拿大幣 (CAD)	28.78000	29.52000
 歐元 (EUR)	36.83000	37.86000






2012/07/17 台灣銀行外幣匯率

幣別	現金匯率	
	買入	賣出
 美金 (USD)	29.62000	30.16200
 港幣 (HKD)	3.72600	3.90600
 英鎊 (GBP)	45.76000	47.76000
 加拿大幣 (CAD)	29.18000	29.93000
 歐元 (EUR)	36.23000	37.25000

2012/07/20 台灣銀行外幣匯率

幣別	現金匯率	
	買入	賣出
 美金 (USD)	29.61000	30.15200
 港幣 (HKD)	3.72400	3.90400
 英鎊 (GBP)	45.91000	47.91000
 加拿大幣 (CAD)	29.35000	30.11000
 歐元 (EUR)	36.15000	37.16000

2012/07/25 台灣銀行外幣匯率

幣別	現金匯率	
	買入	賣出
 美金 (USD)	29.82500	30.36700
 港幣 (HKD)	3.75000	3.93100
 英鎊 (GBP)	45.73000	47.72000
 加拿大幣 (CAD)	29.21000	29.96000
 歐元 (EUR)	35.88000	36.88000

說明：銀行換匯掛牌都是以『銀行』的立場來看，所以買入指『銀行』買入外幣，賣出指『銀行』賣出外幣。且換匯時會以銀行當天匯率計算。

問題 1 (2 分)：

亨利所剩的 1000 加幣(CAD)何時換回台幣對自己較有利呢？請列出算式說明你的看法。

問題 2 (2 分)：

2012 年 7 月 20 日的新聞報導提到，此跨國連鎖服飾店所販賣的外套（亨利購買的同款外套）在香港售價 800 港幣 (HKD)，在美國售價 110 美金(USD)，在英國售價 70 英鎊 (GBP)，在台灣售價 3600 元台幣，因此這四個國家之中台灣賣的最貴。你認為此則新聞報導是否正確？請說明你的看法。